

PROVA PRATICA

TEMA 1

La lettura tecnica dei tessuti insediativi è una delle più classiche operazioni per capire i caratteri morfogenetici e strutturali di una città. Il candidato, studiando i due estratti di cartografia (aerofotogrammetrica e catastale) in scala 10.000 relativi al Comune di Lucca (ALLEGATO 1), sovrapponendo un foglio di carta trasparente, riconosca e classifichi, argomentandone criticamente le motivazioni, gli elementi nodali della struttura urbana e i vari tipi di tessuto urbanistico, organico o disorganico, desumibili dal riconoscimento dell'esistenza o meno di regole storiche e morfologiche, che ne hanno caratterizzato lo sviluppo. All'interno di ogni confine di tessuto argomenta, a lato del foglio trasparente o su foglio di carta o parte, valori, classificandoli razionalmente, quali potrebbero essere i "valori urbani identitari" dell'insediamento.

È fornito anche una carta catastale (non aggiornata) al 10.000 - All. 1a

TEMA 2

Il candidato, sulla base della cartografia assegnata relativa al Comune di Grosseto (ALLEGATO

2), sovrapponendo un foglio di carta trasparente, indichi:

- a) la tipologia di carta assegnata e la scala della medesima;
- b) una possibile penetrazione del territorio per tessuti e per zone omogenee di sensi del D.M. 1444/68
- c) la classificazione la viabilità secondo parametri funzionali;
- d) le parti del territorio che possono rientrare in vincoli ricognitivi e in vincoli conformativi, nonché quelle assoggettabili ad eventuale a vincolo di inedificabilità argomentandone la scelta.

TEMA 3

Il Comune di Ponsacco (ALLEGATO 3) è intenzionato a collegare, con una arteria stradale di livello provinciale, due insediamenti artigianali localizzati ai margini del centro abitato principale (contraddistinti dalle lettere A e B nell'allegata ortofotocartografia alla scala 1:10.000). Il candidato sovrapponendo un foglio di carta trasparente sulla cartografia allegata a) elabori un'analisi valutativa preliminare per la migliore opportunità del possibile tracciato tenendo presente caratteristica e tipo della maglia urbana e della maglia agricola; b) lo inserisca nella cartografia; e c) indichi in quali strumenti della pianificazione territoriale e/o urbanistica deve essere riportato per procedere alla sua realizzazione e ne indichi, seppur sommariamente, i passaggi.

È fornito anche una carta tecnica regionale (non aggiornata) al 10.000 per capire l'evoluzione dell'area in oggetto. All. 3a

Esame di stato per l'abilitazione all'esercizio della professione di Pianificatore
Sezione B - 1ª sessione 1014 - 25.06.2014

PROVA SCRITTA

TEMA 1


Esponga il candidato in una relazione sintetica gli aspetti generali caratterizzanti l'analisi effettuata nell'ambito del tema scelto per la prova pratica.

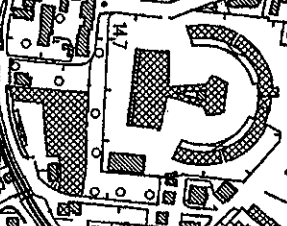
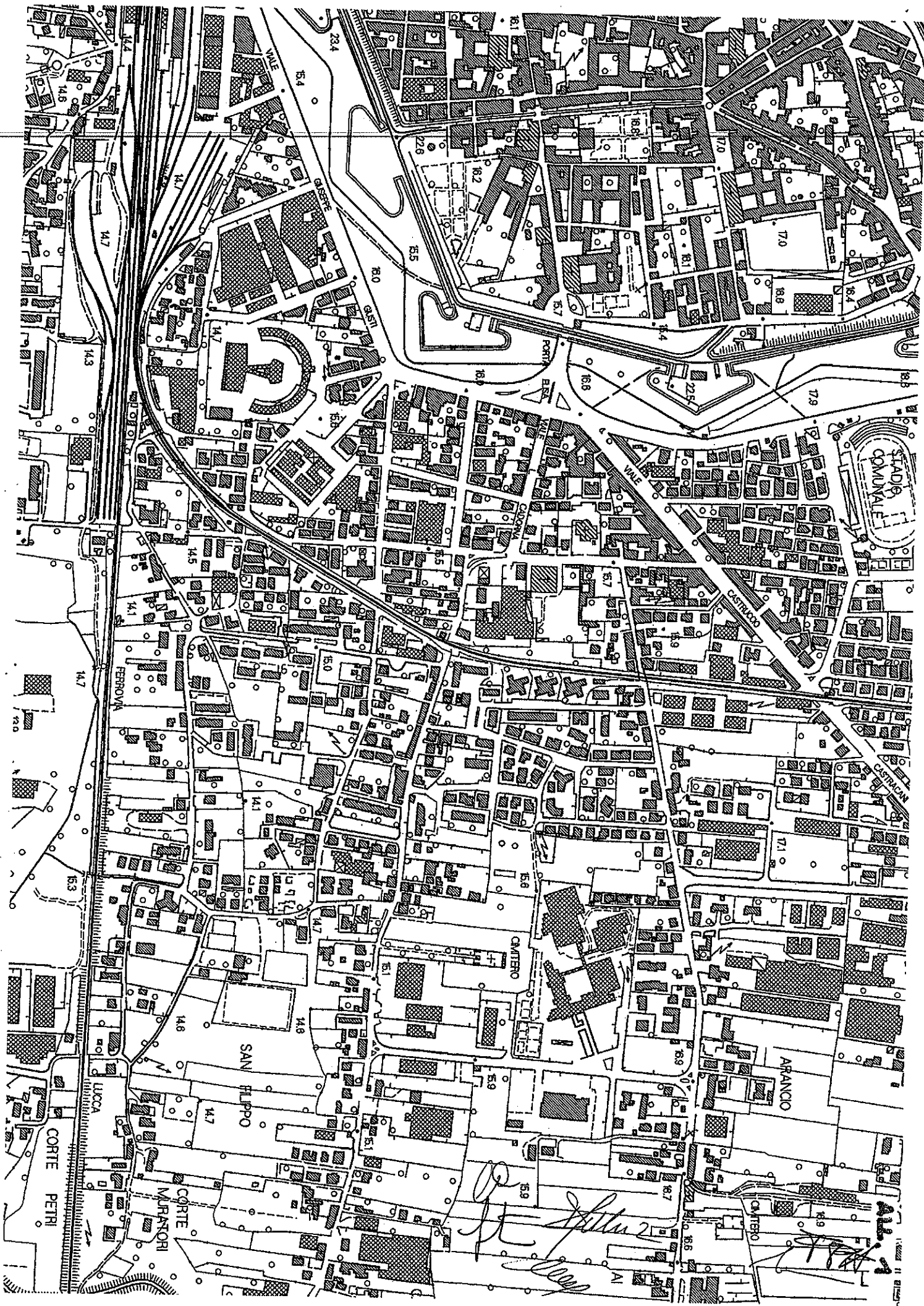
TEMA 2

Esponga il candidato in una relazione sintetica gli aspetti generali caratterizzanti l'analisi effettuata nell'ambito del tema scelto per la prova pratica.

TEMA 3

Esponga il candidato in una relazione sintetica gli aspetti generali caratterizzanti l'analisi effettuata nell'ambito del tema scelto per la prova pratica.





Handwritten signatures and notes in the lower-right area of the plan.



Regione Toscana

Scala 1:10.000



Regione Toscana - SITA: Cartoteca

Handwritten signatures and initials in the bottom right corner.



ALL. 12

